

Bonjour. J'espère que vous allez bien.

Je vous propose le correctif des exercices .

A bientôt.

Quelques petites questions : écris ou entoure la (les) bonne(s) réponse(s)

- a) Sur une carte, que représente un segment de droite gradué en km ?
Une échelle numérique ou **une échelle linéaire**
- b) Donne le nom de la mer située au Nord-Ouest de la Belgique.
La mer du Nord
- c) Comment appelle-t-on le mouvement de la Terre autour du soleil ?
La révolution de la Terre (autour du soleil)
- d) Quels sont les océans qui couvrent notre planète ?
O. Pacifique, O. Méditerranéen, O. Atlantique, O. Indien, O. Antarctique, O. Arctique, O. du Mexique
- e) La Terre tourne autour d'elle-même en **24 heures, un jour**, en 12 heures, en 600 minutes, **une journée et une nuit**.
- f) Donne le nom de l'union de l'Europe et l'Asie. **L'Eurasie**
- g) Pourquoi , en 2020, le mois de février compte-t-il 29 jours ?
C'est une année bissextile qui compte 366 jours.
- h) Donne le nom des pays limitrophes de la Belgique.
France, Luxembourg, Pays-Bas et Allemagne

Lis la carte de la page 3 et réponds aux questions.

1) a) La Senne est - une voie ferrée

- un canal

- un cours d'eau

b) La voie ferrée traverse-t-elle la Senne ? oui-non

2) Complète la carte et sa légende en respectant les consignes suivantes.

a) A l'est de la Senne, le canal de Bruxelles est représenté par une ligne double

- Colorie son symbole en bleu dans la légende.

- Indique ce qu'il représente.

b) Trois routes sont représentées par une fine ligne double.

- Colorie-les en rouge sur la carte. Mille excuses . Une route est visible.

- Représente ce symbole et sa signification dans la légende.

c) Les habitations de la commune de Clabecq sont situées de part et d'autre d'une

de ces routes. Trouve sur la carte le symbole représentant les maisons et

complète la légende.

d) Sur la carte et, dans la légende, colorie en mauve les usines situées à l'Ouest

du canal.

e) Les prairies sont représentées par un symbole illustrant l'herbe.

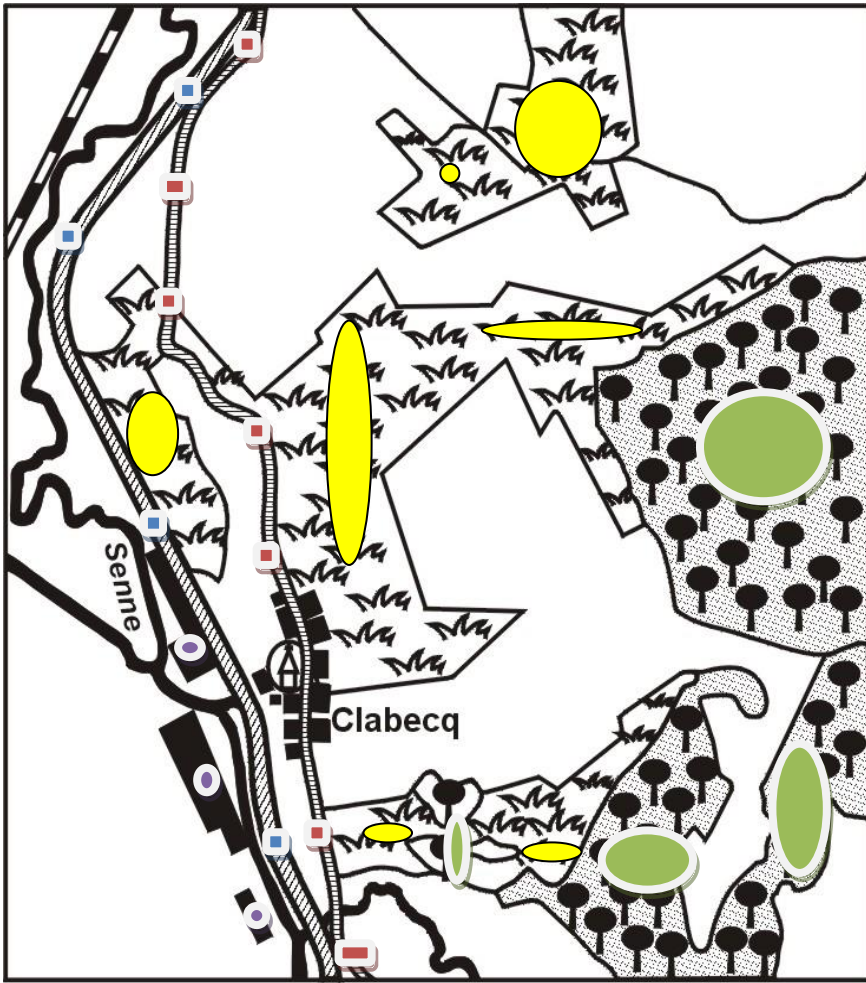
- Colorie-les en jaune sur la carte et dans la légende.










- Indique dans la légende la signification de ce symbole.

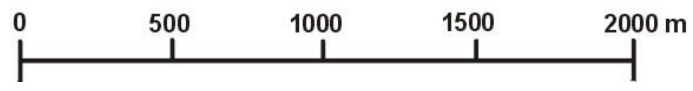
f) Les bois sont représentés par un symbole illustrant les arbres.

- Colorie-les en vert sur la carte et dans la légende.

- Indique dans la légende la signification de ce symbole.

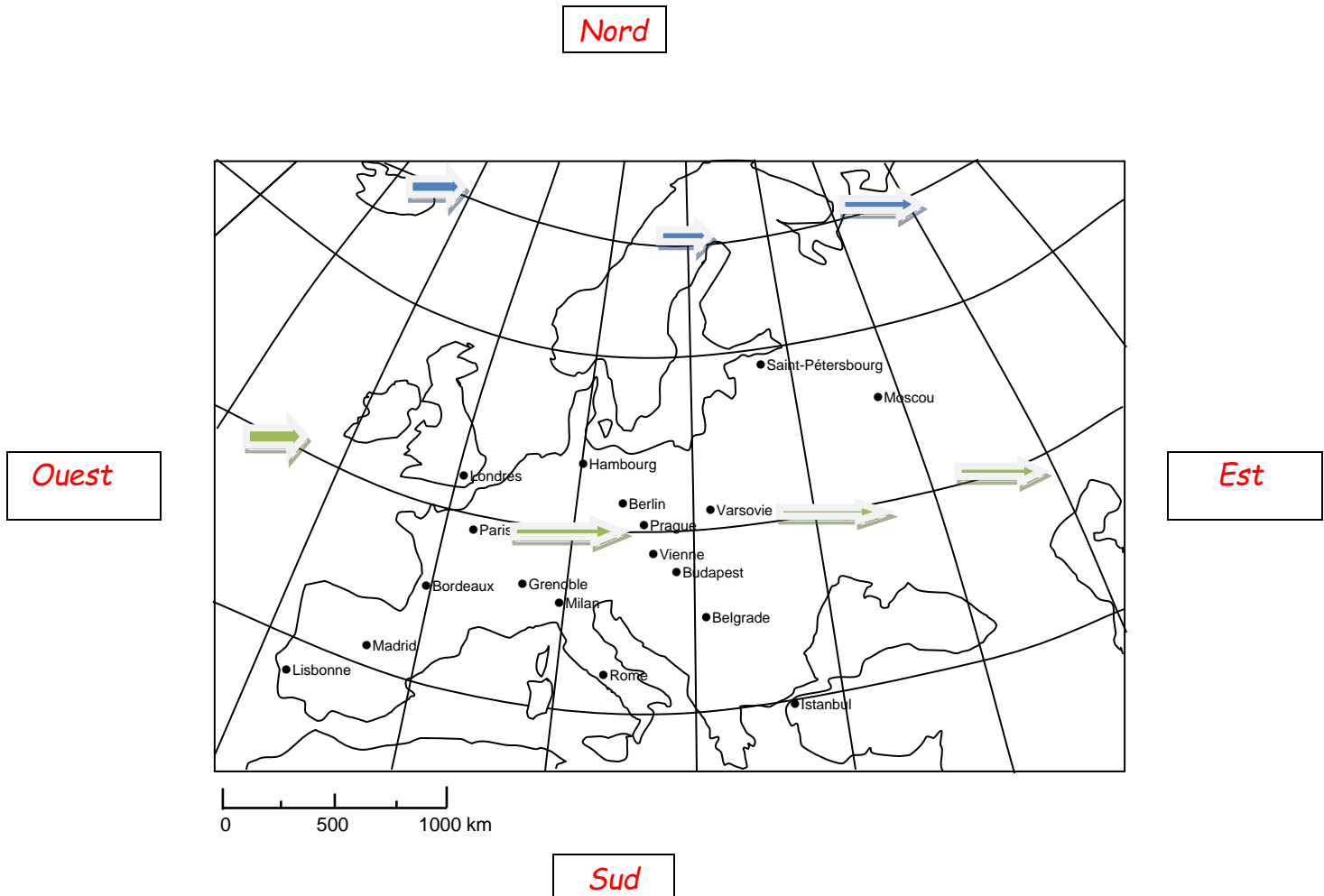


-  maisons
- 
-  canal
- 
-  usines
-  prairies
-  bois
- 
-  route



Lecture d'une carte

Titre : Quelques villes d'Eurasie (ou d'Europe)



1. Indique les directions cardinales dans les cadres entourant la carte.

2. Repasse le cercle polaire Arctique.

3. Repasse en vert la ligne imaginaire qui sépare Prague de Vienne.

Comment appelle-t-on cette ligne ? **Un parallèle**

4. a) Dans quel pays sont situées ces deux villes ?

- Prague : **la République Tchèque**

- Vienne : **Autriche**

b) Quel est le nom du fleuve qui traverse Vienne ? **le Danube**

c) A quel continent appartiennent ces deux villes ? **Europe (ou Eurasie)**

Quel autre continent est également représenté sur la carte ? **Asie ou Afrique**

5. Complète ces phrases à l'aide des directions cardinales.

- Londres est **au Nord-Ouest** de Paris.

- Madrid est **au Sud- Ouest** de Paris.

- Milan est **au Sud- Est** de Paris.

- Vienne est **au Sud- Est** de Paris.

- Hambourg est **au Nord- Est** de Paris.

6. Donne un titre à la carte et note-le dans le cadre au-dessus.

Qui suis-je ?

<< Je suis un archipel du Pacifique Nord composé de quatre grands îles et d'un millier de petites. Mon pays est baigné à l'Ouest par sa mer et à l'Est par l'océan Pacifique. Je m'étends en arc de cercle sur près de 2700 km.

Mes centres économiques et urbains ont été construits sur des plaines étroites qui s'ouvrent sur la mer. Voici le nom de quelques grandes villes qui me composent : Kobe, Osaka, Hiroshima>>

1. Quel est le nom du pays ? **Japon**
2. Quel est le nom de ma capitale ? **Tokyo**
3. Sur quel continent ce pays est-il situé ? **Eurasie (ou Asie)**

<<Mon pays, situé dans l'hémisphère Sud, possède un climat tropical. On y extrait des métaux tels l'argent, l'étain et le cuivre. Une large partie de mon territoire est recouverte de forêts.

Mes grands lacs tels que le Titicaca et le Poopo attirent des touristes avides de grands espaces. >>

1. Quel est le nom du pays ? **Bolivie**
2. Quel est le nom de ma ville la plus peuplée ? **La Paz**
3. Sur quel continent ce pays est-il situé ? **Amérique(s)**